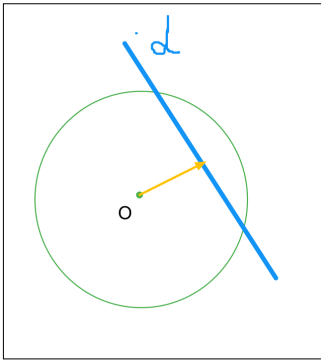


Poziția unei drepte față de un cerc

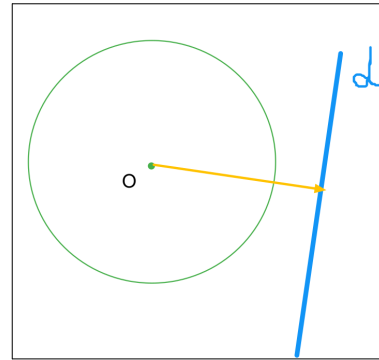
Name:

1.



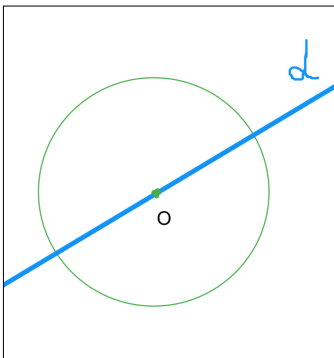
- A tangentă C exterioară
B secantă

4.



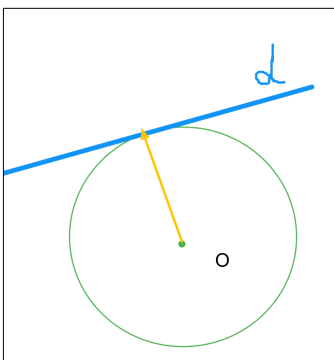
- A tangentă C exterioară
B secantă

2.



- A tangentă C secantă
B exterioară

3.



- A tangentă C exterioară
B secantă