

Exerciții

1. Rezultatul calculului $10 + 6 \cdot (40 - 20 \cdot 2)$ este egal cu
2. Numărul care reprezintă o treime din 30 este egal cu
3. Cel mai mare număr prim din mulțimea $M = \{0, 1, 2, 3, 4, 5, 6, 7, 8, 9\}$ este
4. Pătratul $ABCD$ are perimetrul de 20cm. Lungimea laturii acestui pătrat este egală cu ... cm .
5. În *Figura 1* este reprezentat un cub $ABCD A' B' C' D'$. Unghiul dreptelor BD și $A' C'$ are măsura de ...°.

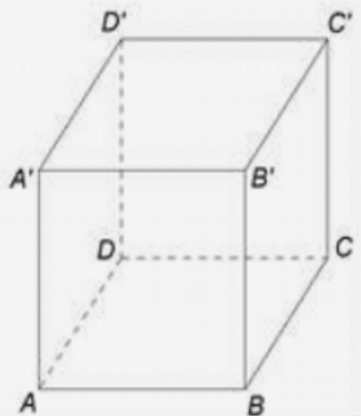
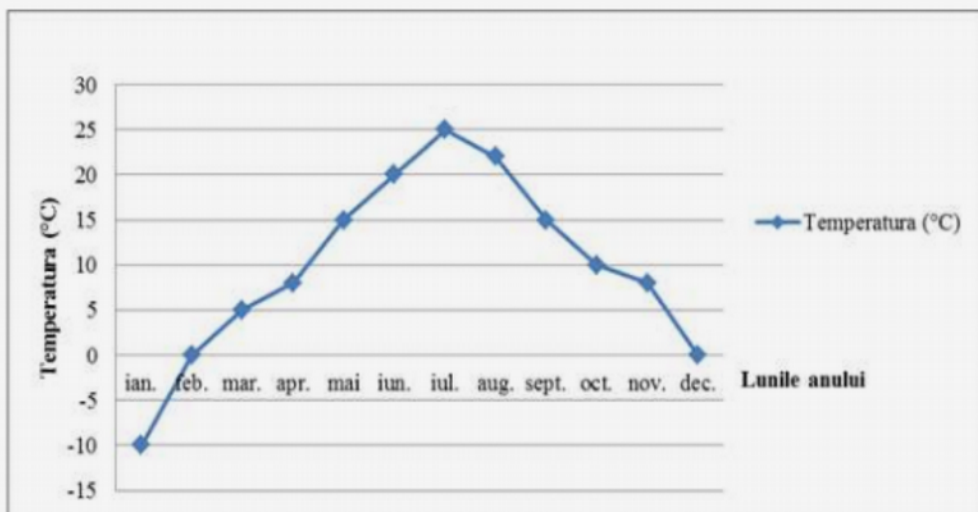


Figura 1

6. În diagrama de mai jos sunt prezentate temperaturile medii înregistrate la o stație meteo, pentru fiecare dintre lunile unui an.



Conform informațiilor din diagramă, diferența dintre temperatura înregistrată în luna decembrie și temperatura înregistrată în luna ianuarie este egală cu ...°C .

Ordinea efectuării operațiilor:

Fracții

Divizibilitate

Perimetrul

Unghiuri/Proiecția dreptelor

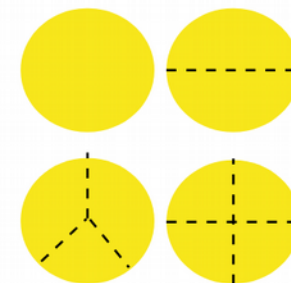
Grafice

Un număr care se divide la 1 și la el însuși

() [] { }

× ÷

+ -



$$P = l + l + l + l$$

