



Rezolvăm! | Probleme care se rezolvă prin două operații

IATĂ UN MODEL!

Ana are 7 bomboane. Eric are cu 3 bomboane mai puțin decât Ana. Câte bomboane au în total cei doi copii?



7 (bomboane Ana)




$7 - 3 = 4$ (bomboane Eric)

$7 + 4 = 11$ (bomboane în total)

R: 11 (bomboane)

ACUM ÎNCEARCĂ ȘI TU !

Laura are 8 rochițe. Anca are cu 2 rochițe mai puțin decât Laura. Câte rochițe au cele două fete în total?



Rezolvă

aici