




Găsește drumul iepurașului - el trebuie să urmeze numerele crescătoare de la 1 a 20



		<b>1</b>	<b>2</b>	<b>3</b>	<b>4</b>	<b>1</b>
		<b>14</b>	<b>29</b>	<b>12</b>	<b>5</b>	<b>21</b>
<b>7</b>	<b>10</b>	<b>9</b>	<b>8</b>	<b>7</b>	<b>6</b>	<b>16</b>
<b>6</b>	<b>11</b>	<b>18</b>	<b>9</b>	<b>15</b>	<b>17</b>	<b>10</b>
<b>5</b>	<b>12</b>	<b>26</b>	<b>18</b>	<b>19</b>	<b>25</b>	<b>23</b>
<b>13</b>	<b>13</b>	<b>1</b>	<b>17</b>	<b>20</b>		
<b>9</b>	<b>14</b>	<b>15</b>	<b>16</b>	<b>28</b>		

De câte ori apar în labirint:

cifra 1 = \_\_\_\_\_

cifra 2 = \_\_\_\_\_

cifra 0 = \_\_\_\_\_