

Rombul ABCD are latura de 10cm.

Perimetrul acestui romb este de ___ cm

$$l = \underline{\hspace{2cm}}$$

$$P = \underline{\hspace{4cm}}$$

Dreptunghiul ABCD are laturile de 8cm și

3cm. Perimetrul acestuia este de ___ cm

$$l = \underline{\hspace{2cm}} \quad L = \underline{\hspace{2cm}}$$

$$P = \underline{\hspace{4cm}}$$

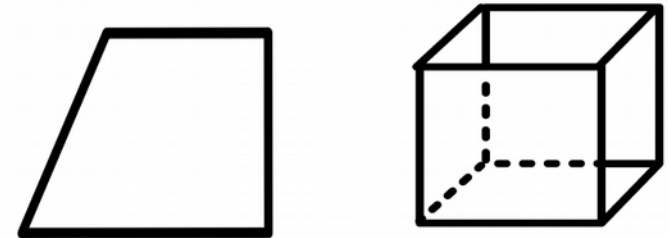

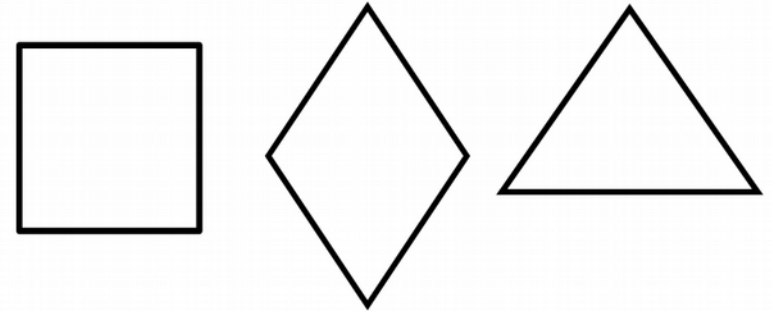
Pătratul ABCD are latura de 10cm.

Aria acestuia este de ___ cm

$$l = \underline{\hspace{2cm}}$$

$$A = \underline{\hspace{4cm}}$$

Identifică figura cerută:



Ce este perimetrul?

**partea
interioară**

**marginea
exterioară**

**Cu ce operație
calculezi aria?**

